




Observe detenidamente la figura tridimensional. Luego, analice las imágenes que se muestran debajo. **¿Cómo se ve de arriba esta figura?**
Redondee la opción correcta.


Tenga en cuenta los tamaños de los objetos y cómo se relacionan entre ellos.



a.



b.



c.




d.



e.



f.





Observe detenidamente la figura tridimensional. Luego, analice las imágenes que se muestran debajo. **¿Cómo se ve de arriba esta figura?** Redondee la opción correcta.

Tenga en cuenta los tamaños de los objetos y cómo se relacionan entre ellos.

