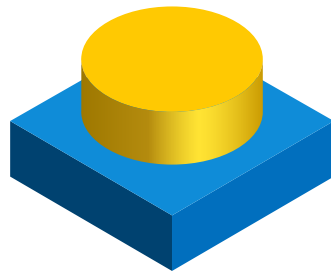




Observe detenidamente la figura tridimensional. Luego, analice las imágenes que se muestran debajo. **¿Cómo se ve de arriba esta figura?**
Redondee la opción correcta.


Tenga en cuenta los tamaños de los objetos y cómo se relacionan entre ellos.




a.




b.



c.



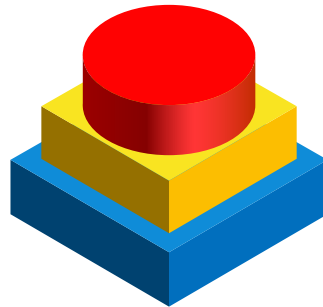
d.





Observe detenidamente la figura tridimensional. Luego, analice las imágenes que se muestran debajo. **¿Cómo se ve de arriba esta figura?**
Redondee la opción correcta.


Tenga en cuenta los tamaños de los objetos y cómo se relacionan entre ellos.




a.



b.



c.



d.




e.



f.



g.



h.



i.

